

همین آن عضو کانال سخت کوشان شوید
و به روزترین فایل های اول تا ششم را دانلود کنید

@SAKHTKOSHANCOM

معرفی کانال



به روزترین مطالب آموزشی
پایه های اول تا ششم



کانال تلگرام @skhtkoshancom

سایت sakhtkoshan.com

سخت کوشان



سخت کوشان

قدیم ترین و تخصصی ترین وبلاگ و سایت آموزش کشور

به روزترین و جدیدترین فایل های آموزشی را از سخت کوشان دانلود کنید

SAKHTKOSHAN.COM

سایت سخت کوشان

@SAKHTKOSHANCOM

کانال تلگرام سخت کوشان

SHOP.SAKHTKOSHAN.COM

فروشگاه سخت کوشان

زرنظر : سیدجواد تترقی

مدرس ریاضی پایه نهم و دهم تا ششم دبستان

مؤلف بیش از ۳۰ جلد کتاب کار و تیزهوشان ریاض پنجم و ششم





★	آزمون های جامع ششم ابتدایی
★	کانال تیز هوشان تهران
کانال تیز هوشان تهران @PRIMARYSCHOOL6	

سوالات مواد امتحانی، تعداد شماره ی سوالات مدت پاسخگویی: ۰۰ دقیقه

ردیف	مواد امتحانی	تعداد سوالات	از شماره	تا شماره
۱	قرآن و هدیه های آسمانی	۱۰	۱	۱۰
۲	ادبیات فارسی	۱۵	۱۱	۲۵
۳	مطالعات اجتماعی	۱۰	۲۶	۳۵
۴	علوم تجربی	۲۰	۳۶	۵۵
۵	ریاضیات و هوش	۲۰	۵۶	۷۵

طراح سوال: زهرای پیرنیاکان

سوالات جامع پایه ی ششم ابتدایی

هدیه های آسمانی و قرآن

۱	((و خداوند شکست ناپذیر و حکیم است)) ترجمه ی کدام عبارت قرآنی می باشد؟ الف) وَكَانَ اللَّهُ عَزِيزًا حَكِيمًا ب) وَكَانَ اللَّهُ عَلِيمًا حَكِيمًا ج) وَكَانَ اللَّهُ غَفُورًا رَحِيمًا د) وَكَانَ اللَّهُ قُوِيًّا عَزِيزًا
۲	((قطعا مایه روزی چشم گیر و بزرگی نصیب تو کردیم)) ترجمه ی کدام یک از عبارات قرآنی می باشد؟ الف) نَصْرٌ مِّنَ اللَّهِ وَفَتْحٌ قَرِيبٌ ب) إِنَّا فَتَحْنَا لَكَ فَتْحًا مُّبِينًا ج) وَأَتَيْنَاهُم فَتْحًا قَرِيبًا د) وَأَنْزَلْنَا إِلَيْكُمْ نُورًا مُّبِينًا
۳	معنی کدام کلمه از صفات خداوند است؟ الف) قِسْطٌ ب) وَضَعٌ ج) سَمَا د) رَزَاقٌ
۴	حدیث شریف ((بهترین اعمال نزد خداوند نگهداری زبان است)) از کدام بزرگوار است؟ الف) امام علی (ع) ب) پیامبر اکرم (ص) ج) امام باقر (ع) د) امام رضا (ع)
۵	مهم ترین پیام مشترک همه ی پیامبران دعوت به چیست؟ الف) کار نیک ب) امر به معروف ج) یکتاپرستی د) نبوت
۶	امام حسین (ع) هدف از قیام در مقابل یزید را چه می دانست؟ الف) رسیدن به حکومت ب) نجات قبیله اش ج) اصلاح شرایط مالی مسلمانان د) اصلاح امت جدش
۷	بر اساس آیه ی ۲۹ سوره ی فتح، یاران و دوست داران پیامبر در مقابل کفار چگونه باید باشند؟ الف) بی توجه و بی تفاوت ب) خشمگین و عصبانی ج) سرسخت و استوار د) مهربان و بردبار
۸	اولین برنامه ی دشمنان برای مقابله با امام زمان (عج) چه بود؟ الف) کشتن امام در کودکی ب) کشتن امام حسن عسکری (ع) ج) جلوگیری از ولادت امام د) کشتن امام بعد از رسیدن به امامت
۹	اگر جایی آب نداشته باشیم، باید به جای وضو چه کنیم؟ الف) بدون وضو نماز بخوانیم. ب) با گلاب وضو بگیریم. ج) غسل کنیم. د) تیمم کنیم.
۱۰	کدام زندگی انسان، دائمی و همیشگی نیست؟ الف) زندگی در دنیا ب) زندگی در برزخ ج) زندگی در جهان آخرت د) گزینه های ۱ و ۲

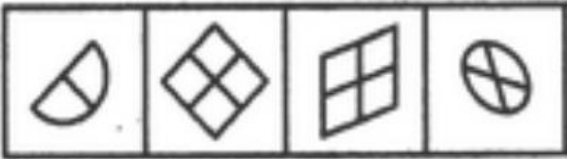
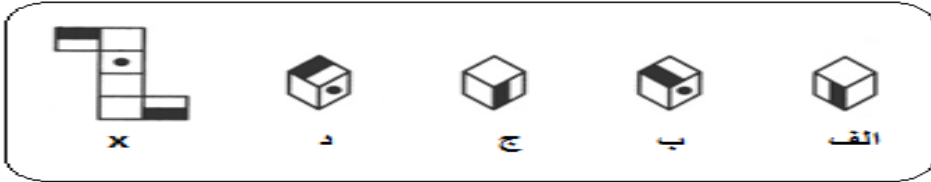
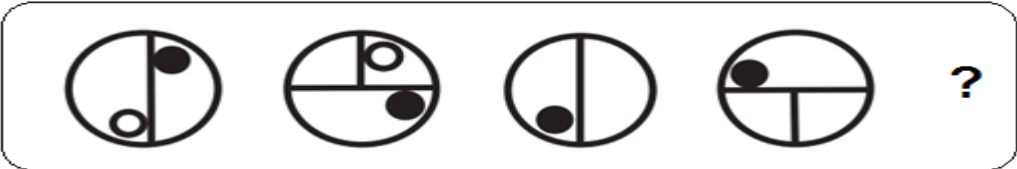

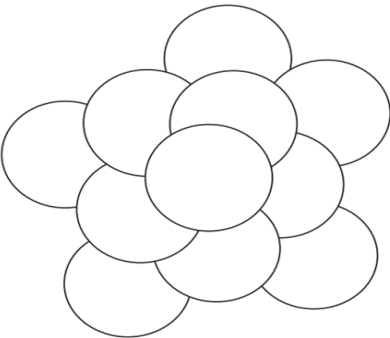
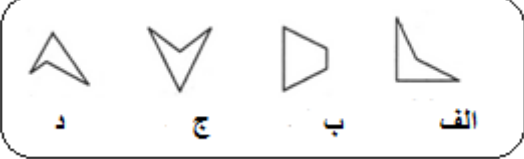
۱۱	کلمه های کدام گزینه هم خانواده ی فارسی هستند؟ (الف) نظر-منظر-انتظار (ب) عارف-عرفان-معروف (ج) گویش-گوینده-گوبا (د) مشهد-شهادت-تشهد
۱۲	سراینده ی ((نخستین سرودجمهوری اسلامی ایران)) کدام شاعر است؟ (الف) قیصر امین پور (ب) شهریار (ج) ابوالقاسم حالت (د) غلامعلی حدّاد عادل
۱۳	کدام یک از ترکیب های زیر ((وصفی)) نیست؟ (الف) اندیشه های تازه (ب) اخلاق نیکو (ج) رعایت اخلاق (د) عملکرد مفید
۱۴	نام دیگر کتاب ((سندبادنامه)) چیست؟ (الف) هزارویک شب (ب) داستان هفت وزیر (ج) داستان پنج گنج (د) داستان سندباد
۱۵	شعر ((ای مادر عزیز)) سروده ی کدام شاعر است؟ (الف) سعدی شیرازی (ب) احمد جام (ج) حافظ شیرازی (د) ابوالقاسم حالت
۱۶	کدام یک از دو مصراع زیر تکمیل کننده ی ابیات می باشند؟ هرگز نشدمحبت یاران و دوستان مادر خویش رانگهبانیم الف- هم پایه ی محبت و مهر و وفای تو و ای مادر عزیز که جان داده ای مرا ب) قربان مهربانی و لطف و صفای تو و ای مادر عزیز که جان داده ای مرا ج) هم پایه ی محبت و مهر و وفای تو و وطن به جای مادر ماست د) گر بود اختیار جهانی به دست من و همه باهم برادر و وطنیم
۱۷	واژه ی (چو، چون) در کدام گزینه با بقیه فرق دارد؟ (الف) چو آن نامور پهلوان کشته شد. (ب) چو بگشاد خفتان و آن مهره دید. (ج) چون نداری مایه از لاف سخن خاموش باش. (د) چون پری از خلق طرف گیر بود.
۱۸	رابطه ی کدام دسته از کلمات زیر صحیح می باشد؟ (الف) علم و عمل، هم خانواده - صیف و شتا، هم معنی (ب) فراز و فرود، متضاد- عزیز و اعزاز، هم آوا (ج) یزد و یزدان مفرد و جمع - سبا و صبا، هم آوا (د) آسان و سهل، هم معنی - نقطه و منقوط هم خانواده
۱۹	ساختمان دستوری کدام واژه با بقیه فرق دارد؟ (الف) گریان (ب) دانا (ج) گوینده (د) گرفتار
۲۰	کدام یک از عبارتهای زیر (ضرب المثل) نمی باشد؟ (الف) شتر دیدی، ندیدی (ب) هر که بامش بیش، برفش بیش (ج) شکم را صابون زدن (د) از تو حرکت، از خدا برکت
۲۱	در شعر زیر مفعول کدام است؟ ((گل یکی دو پیرهن / بیش ترز غنچه پاره کرده است.)) (الف) پیرهن (ب) گل (ج) غنچه (د) پاره
۲۲	کدام یک از پسوندهای زیر ((اسم مکان)) می سازد؟ (الف) زار (ب) گر (ج) گار (د) دی
۲۳	تلفظ کدام یک از واژه ها ی زیر به دوشیوه صحیح می باشد؟ (الف) لاله زار (ب) گلستان (ج) آسمان (د) خشمگین
۲۴	ساختمان کدام کلمه ی غیر ساده متفاوت است؟ (الف) بوستان (ب) کردگار (ج) لاله زار (د) سیمرغ
۲۵	در کدام یک از ابیات زیر کنایه وجود ندارد؟ (الف) مدتی می بایدش لب دوختن (ب) هر که دل پیش دلبری دارد (ج) گراز عهد خریدت یاد آمدی (د) هنوز از دهن بوی شیر آیدش از سخن تا او سخن آموختن ریش در دست دیگری دارد که بیچاره بودی در اغوش من همی رای شمشیر و تیر آیدش

۲۶	پیامبر عزیز ما حضرت محمد (ص) می فرمایند: ((از دوستی با افراد..... و..... و..... خودداری کنید.)) الف) دروغگو - بخیل - سخن چین ب) حسود - نادان - دروغگو ج) سخن چین - عاقل - نادان د) نادان - بخیل - حسود
۲۷ در اخلاق و رفتار، سلامتی، وضع تحصیل و آینده ی ما اثر می گذارد. الف) دوستان خوب ب) هم کلاسی های خوب ج) پدر و مادر د) تصمیمات مهم
۲۸	گیاه سیب زمینی در چه مناطقی رشد می کند؟ الف) مناطق سردسیری ب) مناطق معتدل ج) مناطق گرمسیری د) گیاه سیب زمینی در هر منطقه ای به عمل می آید.
۲۹	سه گروه مهم از گیاهان زراعی کدامند؟ الف) حبوبات - غلات - خرما ب) حبوبات - محصولات جالیزی - پرتقال ج) غلات - حبوبات - موز د) غلات - حبوبات - محصولات جالیزی
۳۰	در کدام نیروگاه هاباسوزاندن سوخت های فسیلی آب را به بخار تبدیل می کنند؟ الف) برق آبی ب) برق حرارتی ج) برق هسته ای د) برق آبی و حرارتی
۳۱	معروف ترین بیمارستان دوره ی اسلامی توسط چه کسی بنا شد؟ الف) ابوعلی سینا ب) زکریای رازی ج) عضدالدوله ی دیلمی د) خواجه نظام الملک
۳۲	تفاوت مهم انرژی هسته ای با سایر انرژی هادر چیست؟ الف) انرژی زیاد تولید می کند. ب) معادن آن تمام شدنی نیست. ج) قابل تجدید است. د) از شکافتن اتم های تمام عناصر پدید می آید.
۳۳	در برچسب انرژی هر چه به رنگ نزدیک تر باشد، کارایی وسیله ی برقی بهتر است. الف) زرد ب) نارنجی ج) سبز د) قرمز
۳۴	شهرهای و..... به ترتیب دارای نیروگاه خورشیدی و بادی می باشند. الف) تهران - یزد ب) یزد - تهران ج) منجیل - شیراز د) شیراز - منجیل
۳۵	مهم ترین علت پیشرفت علمی مسلمانان چه بوده است؟ الف) تجارت و بازرگانی ب) نیازهای جدید مسلمانان ج) تعالیم دین اسلام د) حمایت فرمانروایان از دانشمندان

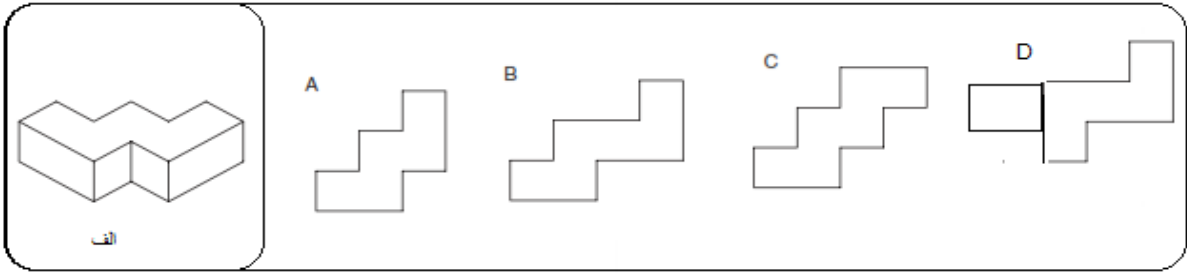
۳۶	انسان های اولیه ،از کدام ماده ی طبیعی زیر، برای ثبت و ذخیره ی اطلاعات استفاده نمی کردند؟
۳۷	الف)چوب ب)سنگ ج)پوست د)پنبه کدام یک ،خاصیت اسیدی دارد؟
۳۸	الف)شامپو ب)نوشابه های گازدار ج)جوش شیرین د)صابون مهارت مشاهده یعنی ،جمع آوری اطلاعات درباره ی محیط اطراف با استفاده از.....
۳۹	الف)حواس مختلف ب)طبقه بندی کردن ج)حس بینایی د)انجام آزمایش کدام یک از ماشینهای زیر، در کارخانه ی کاغذسازی وجود دارد؟ الف)غلتک های مخصوص خشک کردن ب)دستگاه خردکن ج)دیگ های خمیرسازی د)هرسه موردصیح است.
۴۰	از واکنش سرکه با کدام ماده زیر نمک بدست می آید؟ الف)جوهر نمک ب)صابون ج)آبلیمو د)پتاسیم پرمنگنات
۴۱	کدامیک بیشترین دفعات قابلیت بازیافت و کدامیک کمترین دفعات بازیافت را برتیب دارد؟ الف)فلز؛پلاستیک ب)کاغذ؛فلز ج)فلز؛کاغذ د)فلز؛شیشه
۴۲	پتاسیم پرمنگنات در حضور کدامیک سریع تری رنگ میشود؟ الف)آب و سرکه ب)آب و آب اکسیژنه ج)سرکه و آب اکسیژنه د)نور و گرما
۴۳	در کلاس علوم برای نمایش چگونگی خروج مواد آتش فشان از دهانه ی آن، از سوزاندن کدام مواد استفاده می کنیم؟ الف)ترکیب نشاسته وید ب)جوش شیرین ج)دی کرومات آمونیم د)پرمنگنات پتاسیم
۴۴	هرچه به عمق زمین برویم دما.....می یابد و فشار.....می شود. الف)افزایش- کم تر ب)افزایش - بیش تر ج)کاهش - بیش تر د)کاهش - کم تر
۴۵	کدام یک از جمله های زیر نادرست است؟ الف)همه ی زمین لرزه هادر صورت باعث خرابی های کم و بیش در سطح زمین می شوند. ب)علت آزاد شدن انرژی زمین شکستن ورقه های سنگ کره می باشد. ج)وقتی قسمتی از زمین می شکند،احتمال شکستگی همان قسمت در زلزله ی بعدی بیش تر است. د)در هنگام زلزله توجه به پیام ها و راهنمایی های مسئولین مهم است.

<p>مهم ترین عاملی که مانع وقوع لرزه زمین بزرگ در زمین می شود، کدام است؟ الف) خمیری شکل بودن گوشته ی بالای زمین ب) قرار گرفتن سنگ کره بر روی خمیر کره ج) رخ دادن لرزه هایی با شدت کم در طول سال د) محکم و مقاوم بودن پوسته ی زمین</p>	<p>۴۶</p>
<p>در یک استوانه ی شیشه ای مطابق شکل، سه مایع متفاوت و یک جسم مکعبی قرار دارد؟ الف) مایع ((م)) از مایع ((ص)) چگالی کم تر و از مایع ((ع)) چگالی بیشتری دارد. ب) مکعب چون جامد است از مایع ((ص)) چگالی بیشتری دارد برای همین روی آن غوطه و راست. ج) چگالی مکعب از مایع ((م)) بیش تر و از مایع ((ص)) کم تر و تقریباً چگالی مایع ((ع)) برابر است. د) چگالی مایع ((ص)) از مایعات دیگر بیش تر و از مکعب کم تر است.</p>	<p>۴۷</p>
<p>کدام دسته از مواد زیر همگی طبیعی هستند؟ الف) لاستیک - نی حصیر - سولفات باریم - مقوا ب) پنبه - سنگ نمک - سنگ آهن - پوکه معدنی ج) چوب - پارچه ی ابریشمی - گچ - کیف د) ساقه ی برنج - کاغذ - شمع - اکسیژن</p>	<p>۴۸</p>
<p>از ترکیب سرکه و جوش شیرین چه گازی تولید می شود؟ الف) آمونیاک ب) کربن دی اکسید ج) کربن منواکسید د) متان</p>	<p>۴۹</p>
<p>برای ساختن یک ساختمان باسقفی سبک و عایق صدا و حرارت از کدام ماده ی آتش فشانی استفاده می کنیم؟ الف) خاکستر آتش فشان ب) توف آتش فشانی ج) سنگ پا د) پوکه ی معدنی</p>	<p>۵۰</p>
<p>کار کدام ماده در ساخت کاغذ به درستی بیان نشده است؟ الف) کلر (رنگبری) ب) گچ (مات کردن) ج) آب اکسیژنه (رنگبری) د) نشاسته (ضد آب کردن)</p>	<p>۵۱</p>
<p>((باز یافت)) فرآیندی است که طی آن مواد و محصولات مصرف شده دوباره به عمل آمده و قابل استفاده می شوند. کدام عبارت زیر از فواید باز یافت نیست؟ الف) صرفه جویی در منابع ماده و انرژی ب) کمک به حفظ محیط زیست ج) کاهش هزینه های اقتصادی کشور د) تهیه ی محصولات با کیفیت بالاتر</p>	<p>۵۲</p>
<p>باز یافت کدام ماده بیش تر باعث کاهش آلودگی هوای می شود؟ الف) آلومینیم ب) آهن ج) کاغذ د) مقوا</p>	<p>۵۳</p>
<p>دولیان داریم که در هر دو آب و روغن وجود دارد. در اولی کم کم آب و در دومی روغن می افزاییم. کدام جمله ی زیر درباره ی آن هادرست است؟ الف) از لیوان اول ابتدا آب و از لیوان دوم روغن بیرون می ریزد. ب) از لیوان اول ابتدا روغن و از لیوان دوم ابتدا آب می ریزد. ج) از هر دو لیوان ابتدا روغن بیرون می ریزد. د) از هر دو لیوان ابتدا آب بیرون می ریزد.</p>	<p>۵۴</p>
<p>سرعت عبور امواج لرزه ای در کدام ماده بیش تر است؟ الف) آب ب) الکل ج) بنزین د) روغن مایع</p>	<p>۵۵</p>

۵۶	باتوجه به الگوی داده شده عددچهل و سوم، کدام است؟	۱۲ ۱۵ ۱۸ ۲۱...
الف) ۱۲۹	ب) ۱۳۸	ج) ۸۶
د) ۲۱۵		
۵۷	با اعداد ۵، ۱، ۴، ۸ چند عدد دورقمی بخشپذیر بر ۳ می توان نوشت؟	
الف) ۱۰	ب) ۶	ج) ۸
د) ۴		
۵۸	میانگین اعداد صحیح از ۲۴+ تا ۱۸- کدام گزینه می باشد؟	
الف) ۴۲	ب) ۱۳	ج) ۲۱
د) ۳		
۵۹	مجموع ارتفاع دودرخت ۴۲ متری باشد، اگر یکی از آن ها از دیگری ۶ متر کوتاه تر باشد، نسبت درخت بزرگ به درخت کوچک کدام است؟	
الف) $\frac{۷}{۱}$	ب) $\frac{۷}{۳}$	ج) $\frac{۴}{۳}$
د) $\frac{۳}{۷}$		
۶۰	بزرگ ترین عدد ۹ رقمی چند برابر بزرگ ترین عدد ۳ رقمی می باشد؟	
الف) ۱۰۰۱۰۰۱	ب) ۱۱۱	ج) ۱۰۱۰۱
د) ۱۰۱۰۰۱		
۶۱	محمد باسه چهارم پولش کیف خرید و باربع بقیه ی پولش یک جفت کفش خرید. اگر باقی مانده ی پول محمد ۴۸۰۰۰ تومان باشد، ربع پول محمد چه قدر است؟	
الف) ۱۶۰۰۰	ب) ۳۲۰۰۰	ج) ۶۴۰۰۰
د) ۴۰۰۰۰		
۶۲	ساده شده ی کسر روبرو کدام است؟	
الف) $\frac{۱۰۰}{۲۷}$	ب) $\frac{۲۵}{۸}$	ج) $\frac{۱۸}{۵}$
د) $\frac{۲}{۰.۷}$	$\frac{. / ۷۵ \times . / ۸ \times ۳ / ۶}{. / ۷۲ \times ۴ / ۵ \times . / ۱۸} =$	
۶۳	در داخل مربع چه عددی قرار دهیم تا تساوی برقرار باشد.	
الف) $\frac{۱۶}{۱۵}$	ب) $\frac{۲۰}{۲۱}$	ج) $\frac{۱۵}{۱۶}$
د) $\frac{۲۱}{۲۰}$	$۳ \frac{۴}{۵} + ۱ \frac{۳}{۴} + \square = ۶ \frac{۳}{۵}$	
۶۴	حاصل عبارت داده شده، کدام است؟	
الف) $\frac{۳۲}{۷}$	ب) $\frac{۲۰}{۷}$	ج) ۸
د) صفر	$۴۸ \div ۴ - ۳ \times ۲ + ۱۴ \div ۷ =$	
۶۵	طول پارچه ای $\frac{۹}{۴۸}$ متر و عرض آن $\frac{۰}{۸}$ متر است. آن را با ۳ برش به قسمتهای مساوی تقسیم کردیم. مساحت یک قسمت کوچک از پارچه چقدر است؟	
الف) $\frac{۲}{۳۷}$	ب) $\frac{۱}{۸۹۶}$	ج) $\frac{۳}{۱۶}$
د) $\frac{۲}{۵۲۸}$		

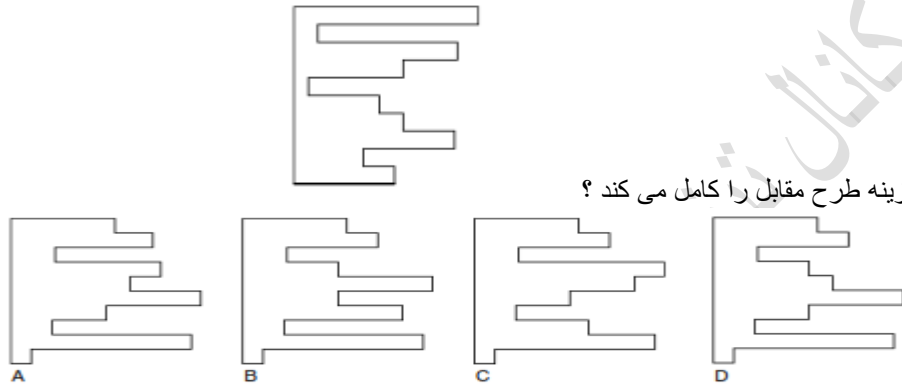
 <p>الف ب ج د</p> <p>کدام گزینه با بقیه متفاوت است؟ (۱) الف (۲) ب (۳) ج (۴) د</p>	<p>۶۶</p>
<p>با توجه به گسترده مکعب X کدام گزینه می تواند مکعب های حاصل از آن باشد؟</p>  <p>الف ب ج د X</p> <p>(۱) فقط الف و ب (۲) فقط ب و ج (۳) فقط ج و ب و د (۴) د و ب و الف و ج</p>	<p>۶۷</p>
<p>دنباله ی الگوی مقابل کدام است؟</p>   <p>(۱) (۲) (۳) (۴)</p>	<p>۶۸</p>
 <p>در شکل مقابل چند دایره می بینید؟ (۱) ۱ (۲) ۱۱ (۳) ۱۰ (۴) ۱۳</p>	<p>۶۹</p>
 <p>الف ب ج د</p> <p>برای ساخت یک مربع کامل کدام قطعه اضافی است؟ (۱) الف (۲) ب (۳) ج (۴) د</p>	<p>۷۰</p>

۷۱ کدام گزینه تصویر شکل الف از نمای بالا است؟

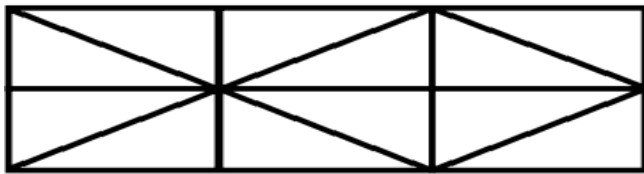


A(۱) B(۲) C(۳) D(۴)

۷۲ کدام گزینه طرح مقابل را کامل می کند؟

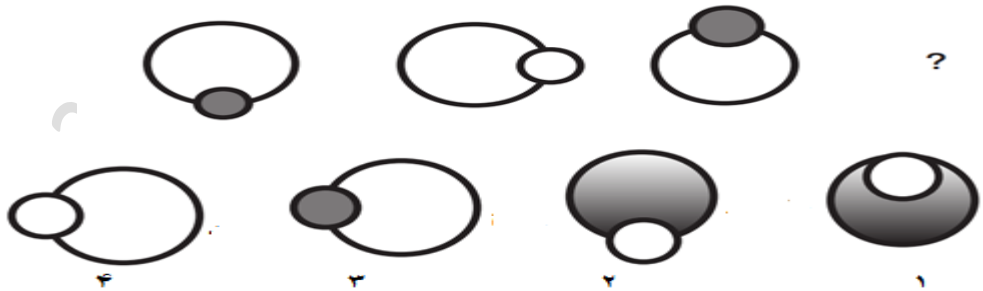


A (الف) B (ب) C (ج) D (د)

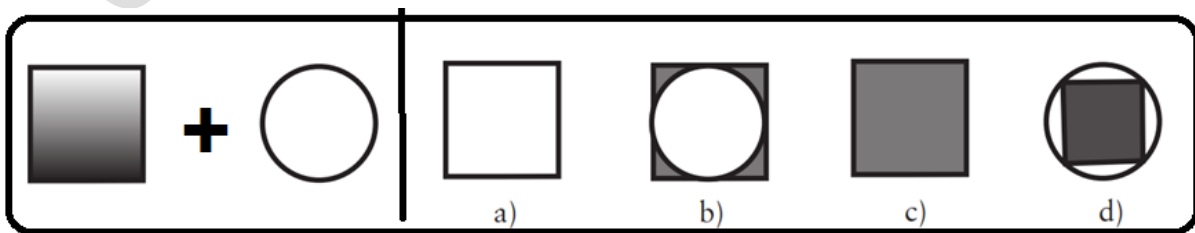


چندتا مثلث در تصویر می بینید؟
 (۱) ۲۱ (۲) ۲۲ (۳) ۲۴ (۴) ۲۵

۷۴ دنباله ی الگوی مقابل کدام است؟



از ترکیب دو شکل سمت چپی کدام گزینه حاصل می شود؟



a(۱) b(۲) c(۳) d(۴)

۷۵

نام و نام خانوادگی:

تاریخ: ۹۵/۱۰/۱۶

سوال	الف	ب	ج	د	سوال	الف	ب	ج	د
۱					۲۶				
۲					۲۷				
۳					۲۸				
۴					۲۹				
۵					۳۰				
۶					۳۱				
۷					۳۲				
۸					۳۳				
۹					۳۴				
۱۰					۳۵				
۱۱					۳۶				
۱۲					۳۷				
۱۳					۳۸				
۱۴					۳۹				
۱۵					۴۰				
۱۶					۴۱				
۱۷					۴۲				
۱۸					۴۳				
۱۹					۴۴				
۲۰					۴۵				
۲۱					۴۶				
۲۲					۴۷				
۲۳					۴۸				
۲۴					۴۹				
۲۵					۵۰				

درس	ص	غ	در
قرآن و هدیه			
ادبیات			
اجتماعی			
علوم			
ریاضی			
نمره ی علمی			