

نام و نام خانوادگی : .....

ارزشیابی پایه پنجم ابتدایی

دبستان : .....

نام آموزگار : .....

(علوم ، مهر ۱۳۹۵)

کلاس : .....

الف) درست یا نادرست بودن هر یک از عبارات های زیر را مشخص کنید.

- ۱- کرم هافراوان ترین جانوران روی زمین هستند.  درست  نادرست
- ۲- سنگ های رسوبی می توانند به سنگ های دگرگونی تبدیل شوند.  درست  نادرست
- ۳- بیشتر وسایلی که ما استفاده میکنیم با انرژی الکتریکی کار می کنند  درست  نادرست
- ۴- دوغ مخلوط شفاف نیست.  درست  نادرست
- ۵- معمولا سیم کشی برق خانه ها به صورت متوالی است.  درست  نادرست

ب) پاسخ صحیح را مشخص کنید.

۶- خاصیت آهن ربایی در کدام قسمت یک آهن ربایبشتر است ؟

- در دو قطب  در وسط  در قسمت تیغه  در همه جای کسان است

۷- تعداد دست و پای " شته " در کدام گزینه به درستی نوشته شده است ؟

- ۲ تا  ۶ تا  ۸ تا  بیشتر از ۱۰ تا

۸- هنگام اتو کشیدن ، تبدیل انرژی به چه صورت انجام می شود

- الکتریکی به الکتریکی به گرمایی  حرکتی به گرمایی  گرمایی به حرکتی  حرکتی به گرمایی

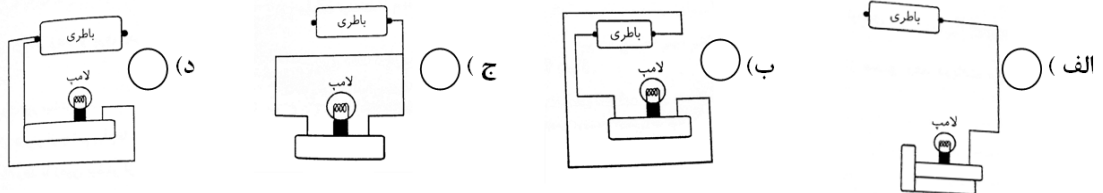
۹- غذاسازی در کدام قسمت گیاه انجام می شود ؟

- ریشه  ساقه  برگ  میوه

۱۰- کدام قسمت قطب نما، آهن ربا است؟

- صفحه  عقربه  سوزن زیر عقربه  قاب قطب نما

۱۱- در کدام یک از مدارهای زیر لامپ روشن می شود؟



پ) جاهای خالی را با مناسب ترین کلمات کامل کنید.

۱۲- سنگ آهن، نوعی سنگ است که از آن ..... تهیه می کنند .

۱۳- در ..... ستاره شناسان با استفاده از ابزارهای مناسب ستاره ها و سیاره هارا مطالعه می کنند .

۱۴- گیاهان بدون دانه با ..... تولید مثل می کنند.

۱۵- در منظومه شمسی ، سیاره ی ..... طولانی ترین سال را دارد.

سخت است

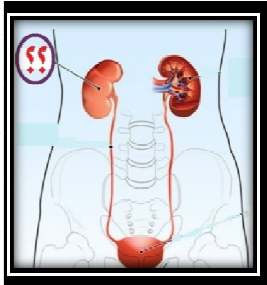
ت) به سوالات زیر پاسخ بدهید .

۱۶- چند گیاه نام ببرید که در برگ خود غذا ذخیره می کنند؟

۱۷- در آب دریا حلال و ماده ی حل شونده را بنویسید .

۱۸- بخش های دستگاه گردش خون را نام ببرید؟

۱۹- قسمتی از بدن ماکه در شکل مقابل با علامت(?) مشخص شده است چه نام داشته و چه وظیفه ای به عهده دارد؟



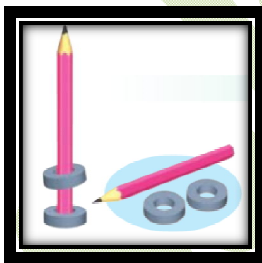
۲۰- سال خورشیدی چیست و سال زمین چندشانه روز است؟

۲۱- نحوه ی ساخت و طرز کار یک آهن ربای الکتریکی را بنویسید؟

۲۲- به چه جانورانی بی مهره گفته می شود؟

۲۳- جسم رسانا و نارسانا را تعریف کنید و برای هر کدام یک مثال بزنید؟

۲۴- در شکل رو به رو چرا آهن ربای بالایی دور مداد، در هوا معلق مانده است؟



ارزیابی آموزگار:

.....

.....

سخت است  
پیدا کردن  
پاسخ