

۱	<p>کلمه های درست را انتخاب کنید و بنویسید . من تصمیم گرفته ام امسال که کلاس دوم هستم دانش آموز سخت کوشی ..... ( باشید - باشم - بودم ) مازاینکه به کلاس بالاتر آمده ایم خوشحال ..... ( شوم - بودند - هستیم )</p>
۲	<p>بخش اول یادوم کلمه های زیر را بنویسید و سپس جاهای خالی را پر کنید. مس + ..... = ..... ؛ ..... + گار = .....</p>
۳	<p>شکل دیگر نشانه ها را بنویسید .  </p>
۴	<p>جمله های زیر را مرتب کنید . کتابخانه - دوستش - و - می کنند - مهسا - در - دوستش - مطالعه ..... پاییز - درختان - در - زرد - می ریزند - برگ های .....</p>
۵	<p>نشانه ها را مرتب کنید و کلمه بسازید . س - ا - م - آ - ن ( ) ؛ ط - ا - ب - ن - ا - ض ( ) ؛ م - گ - ا - ز - آ - و - ر ( )</p>
۶	<p>جمله های زیر را بخوانید و پاسخ مناسب بدهید . حلزون چه زمانی به داخل صدف خود می رود؟ روز مبعث چه روزی است ؟</p>
۷	<p>جمله بسازید . سرباز : ..... بهداشت : .....</p>
۸	<p>برای هر نشانه یک کلمه بنویسید .  </p>
۹	<p>در هر تصویر چه می بینید؟ نامش را بنویسید.  </p>



مقطع: دبستان

دوره: اول

پایه: دوم

برنام خداوند جان و خرد

درس: فارسی ، ریاضی ، علوم

نوع آزمون: ارزشیابی ورودی

زمان آزمون: ۶۰ دقیقه

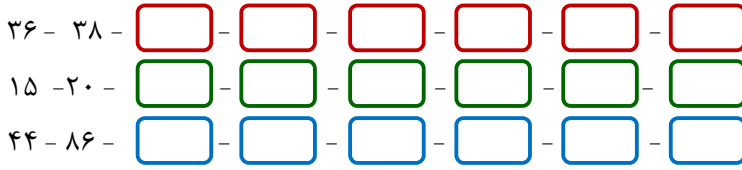
استان:

شهرستان:

آموزشگاه:

عددهارا ب توجه به الگو ، ادامه بدهید .

۱۰



حاصل جمع هارا بنویسید .

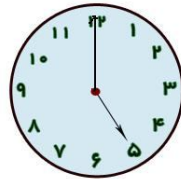
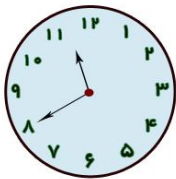
۱۱

۸ + ۵ =       ۹ + ۲ =       ۱۰ + ۶ =       ۱۰ + ۸ =

۵ + ۱۰ + ۱۰ =       ۵ + ۵ + ۱۰ + ۱۰ + ۱۰ =       ۱۰ + ۱۰ + ۱۰ + ۵ + ۵ + ۳ =

زمانی که هر یک از ساعت هانشان می دهد را بنویسید.

۱۲





کمی به ساعت ..... مانده است

ساعت ..... است

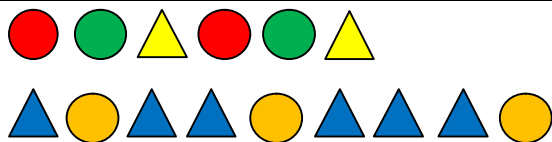
شکل های سمت چپ و راست با هم چندتا هستند؟ با کشیدن چوب خط نشان بدهید و سپس عدد آنرا بنویسید

۱۳



الگوی هر ردیف را تادو مرحله ی دیگر ادامه بدهید.

۱۴



در هر ردیف عدد هر دسته را بنویسید و عدد بیشتر را مشخص کنید.

۱۵



.....

.....




.....

.....

نام هر شکل را مقابلش بنویسید.

۱۶





مقطع: دبستان

دوره: اول

پایه: دوم

برنام خداوند جان و خرد

درس: فارسی ، ریاضی ، علوم

نوع آزمون: ارزشیابی ورودی

زمان آزمون: ۶۰ دقیقه

استان:

شهرستان:

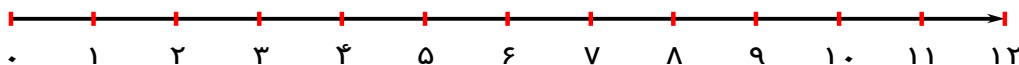
آموزشگاه:

در جاهای خالی عدمناسب بنویسد تا مربع شگفت انگیز کامل شود .

۵	۱		۳	۲	۶
۶	۳			۴	۵
۴		۳	۵	۱	
۱		۵	۴	۶	۳
۲	۵	۱	۶		۴
۳	۴		۲	۵	۱

۱۸ سیاوش ۳ بسته ی ده تایی مدادسیاه خرید.او یکی از بسته هاراباز کرده و نصف مدادهای آن بسته رابه فروشنده داد وبجایش به همان تعدادمدادقرمزگرفت،سیاوش اکنون چندمدادسیاه وچندمدادقرمزدارد؟

۱۹ امسال ۹ نفر از دانش آموزان کلاس دوم برای اولین بار در این دبستان ثبت نام کرده اند وغزاله تاکنون فقط ۵ نفر از آنها دوست شده است، با کمک محور نشان دهید که هنوز غزاله با چند نفر از همکلاس های جدیدش دوست نشده است؟



۲۰ مراحل رشد جوجه را شماره گذاری کنید .



۲۱ یکی از تصویرها با بقیه متفاوت است، آن تصویر را مشخص کنید.



۲۲ ریشه های گیاهان چگونه هستند؟ ( مثال بزنید )

۲۳ جانوران چه چیزهایی می خورند؟

۲۴ لمس کردن چه کمکی به مامی کند؟

۲۵ چه کارهایی باید انجام دهیم تا همیشه سالم وقوی باشیم ؟

۲۶ نام چند جانور که برای ما مفید هستند را بنویسید.