

# به نام خدا

ارزشیابی ورودی سوم

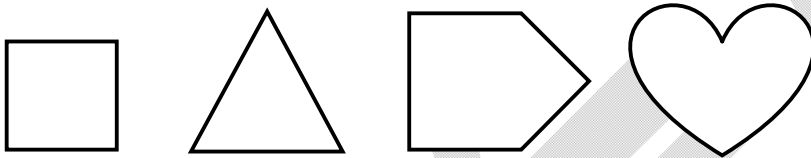
کلاس سوم

دبستان: .....

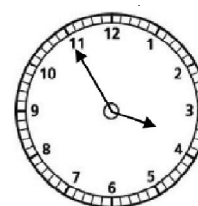
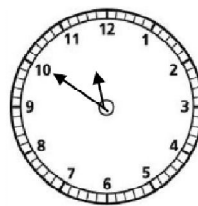
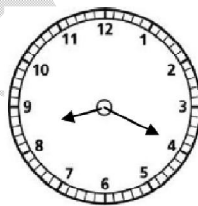
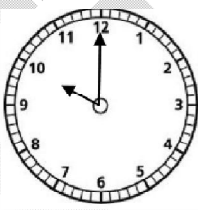
نام و نام خانوادگی:

۱- با رقم های ۷ و ۵ برای یکان و ۴ و ۳ برای دهگان تا جایی که می توانی عدد دو رقمی بساز.

۲. خط تقارن شکل های زیر را رسم کن.



۳. هر ساعت چه زمانی را نشان می دهد؟



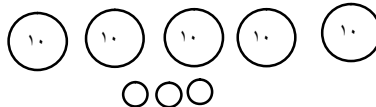
۴. حاصل جمع و تفریق های زیر را بدست آورید.

$$\begin{array}{r} 459 \\ - 23 \\ \hline \end{array}$$

$$\begin{array}{r} 742 \\ - 25 \\ \hline \end{array}$$

$$\begin{array}{r} 215 \\ + 12 \\ \hline \end{array}$$

۵. عددی را که شکل نشان می دهد ابتدا در جدول بگذار و سپس بخوان و با حروف و رقم بنویس.



ی	د	ص

۶. دور کمترین عدد در هر دسته را خط بکشید .



۷. عدد های زیر را از بزرگ به کوچک مرتب کن .

۷۰۴ - ۸۳۶ - ۵۲۴ - ۲۹۳ - ۴۱۷ - ۳۱۶ - ۳۰۶

۸. علامت  $< = >$  بگذار .

۵۱۴ ○ ۵۰۰

۷۵ ○ ۷۰۵

۹۰۳ ○ ۹۳

۹. الگویابی کرده و ادامه بده .

۵ - ۷ - ۹ - ..... - ..... - .....

۷ : ۱۰ - ۷ : ۲۰ - ..... - ..... - .....

۱۰. کلاه قرمزی ۴۳ ریال از پسر خاله و ۲۵۶ ریال از آقای مجری عیدی گرفت . عیدی های کلاه قرمزی رو هم چند ریال است ؟

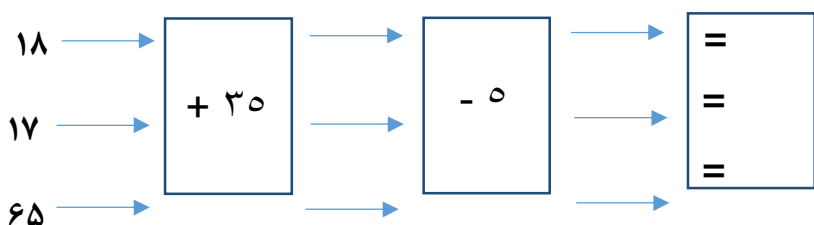
۱۱. بستنی های مغازه احمد آقا ۳۴۵ عدد . بستنی های مغازه اکبر آقا ۵۲۹ عدد است .

- این دو مغازه روی هم چند بستنی دارند ؟

- بستنی های کدام مغازه بیشتر است ؟

- چند تا بیشتر است ؟

۱۲. با توجه به کاری که ماشین انجام می دهد ، عدد های خروجی را بنویس .



۱۳. ارزش رقم ۴ در کدام یک از عدد های زیر بیشتر است ؟ دورش را خط بکش .

۷۴۵

۴۵۷

۵۷۴

۷۵۴

۱۴. جاهای خالی را کامل کن .

- ۷ یکی و ۱۲ ده تایی و ۳ صدتایی می شود .....

- ۱۳ یکی و ۵ ده تایی می شود .....

- اگر یک ربع از ساعت ۵ گذشته باشد آن وقت می خوانیم ساعت ..... و ..... دقیقه .

۱۵. جاهای خالی را عدد مناسب بگذارید .

$$۶۰ - \dots = ۲۷$$

$$۲۹ + \dots = ۶۳$$

موفق و پیروز باشید.

ساخت کوشان



کانال تلگرام @skhtkoshancom

سایت sakhtkoshan.com

ساخت کوشان

منبع : salehonline.ir

ارسال شده به سخت کوشان توسط همکاران محترم