

نام :  
نام خانوادگی :  
نام پدر :  
دبستان :

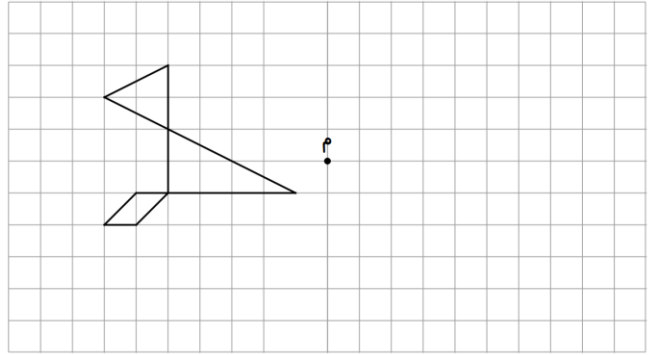
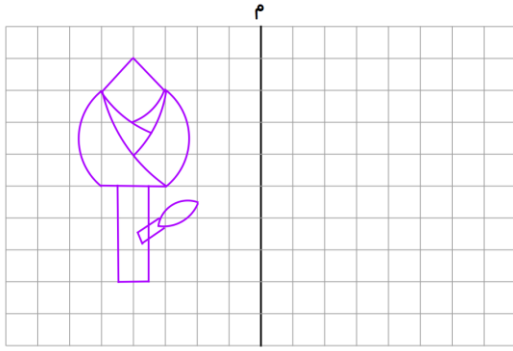
اداره کل آموزش و پرورش استان خوزستان  
مدیریت آموزش و پرورش ناحیه ۲ اهواز  
**ارزشیابی ورودی ریاضی**

تاریخ امتحان : ۱۴۰۱ / ۷ /  
زمان : ۱۰۰ دقیقه  
پایه تحصیلی : ششم ابتدایی  
ساعت شروع آزمون :

مقیاس	سوالات
خ خ ق ق ن ن	<p>(۱) در جای خالی علامت (<math>&lt; = &gt;</math>) بگذارید .</p> $7\frac{1}{4} \bigcirc 7\frac{3}{12} \quad 9\frac{\cdot}{5} \bigcirc 8\frac{5}{5} \quad 3/70 \bigcirc 3/07 \quad 14/1 \times 0/01 \bigcirc 27/3 \times 0/1$
خ خ ق ق ن ن	<p>(۲) در جای خالی عدد مناسب بنویسید .</p> $\frac{2}{\square} = \frac{4}{18} = \frac{\square}{36} \quad \frac{2}{5} = \frac{\square}{100} = \square \%$
خ خ ق ق ن ن	<p>(۳) اندازه ی زاویه های خواسته شده را به دست آورید .</p>
خ خ ق ق ن ن	<p>(۴) حاصل عبارت های زیر را به دست آورید.</p> $\begin{array}{r} 5 \quad 6' \quad 17'' \\ - 3 \quad 14' \quad 15'' \\ \hline \end{array} \quad \begin{array}{r} 4 \quad 25' \quad 19'' \\ + 2 \quad 45' \quad 18'' \\ \hline \end{array}$ $\frac{4}{4} \frac{1}{4} - 2 \frac{1}{3} = \quad \frac{3}{7} \div \frac{1}{4} =$ $\begin{array}{r} 5/493 \\ + 9/087 \\ \hline \end{array} \quad \begin{array}{r} 57/2 \\ \times 3/14 \\ \hline \end{array}$
خ خ ق ق ن ن	<p>(۵) حاصل ضرب زیر را به روش مساحتی به دست آورید .</p> $1\frac{2}{3} \times 2\frac{1}{4} =$
خ خ ق ق ن ن	<p>(۶) چند درصد از شکل رو به رو رنگی است ؟</p>

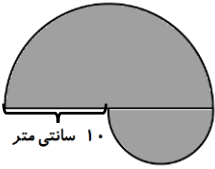
۷) قرینه ی شکل را نسبت به خط یا نقطه ی « م » رسم کنید.

خ  
خ  
ق  
ق  
ن  
ن



۸) محیط شکل رو به رو را به دست آورید .

خ  
خ  
ق  
ق  
ن  
ن



۹) ۱۵ ساعت و ۳ روز قبل از ساعت ۱۰ صبح فردا چه روزی و چه ساعتی است ؟

خ  
خ  
ق  
ق  
ن  
ن

۱۰) کسری مساوی  $\frac{4}{7}$  بنویسید که تفاوت صورت و مخرج آن ۲۱ باشد .

خ  
خ  
ق  
ق  
ن  
ن

۱۱) زمینی داریم به شکل دوزنقه که مجموع دو قاعده ی آن ۴ کیلومتر است . اگر مساحت آن ۱۲ هکتار باشد ، ارتفاع آن چند متر است ؟

خ  
خ  
ق  
ق  
ن  
ن

پیروز باشید

### جدول انتظارات آموزشی

نیازمند تلاش	قابل قبول	خوب	خیلی خوب	اهداف و انتظارات آموزشی	رتبه
				مفهوم کسر و عدد اعشاری را درک می کند .	۱
				قادر به رسم قرینه ی شکل است .	۲
				مفهوم زاویه را می داند و اندازه ی زاویه را محاسبه می کند .	۳
				محاسبه ی محیط و مساحت را می داند .	۴
				مفهوم احتمال را می داند .	۵

طراح : مهسا حسینی



@SAKHTKOSHAN.COM

باتشکر از همکار محترم خانم حسینی

معرفی کانال  
سخت کوشان