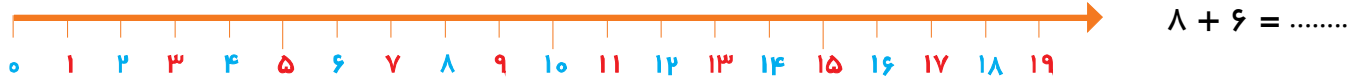


جمع و تفریق ها را روی محور نشان بده و جواب را بنویس.



در جاهای خالی عدد مناسب بنویس.

$9 - 12 = \dots\dots - \dots\dots - \dots\dots - \dots\dots$

$$\begin{array}{r} +3 \quad +3 \quad +3 \\ \hline \end{array}$$


$$\begin{array}{r} \dots\dots - \dots\dots - \dots\dots - \dots\dots - 45 - 50 \\ -5 \quad -5 \quad -5 \quad -5 \end{array}$$

مسئله را به کمک چوب خط حل کن.

نیما در یخچال ۶ تخم مرغ داشت. مادرش ۵ تخم مرغ از بازار خرید. پدر نیما هم ۴ تخم مرغ خرید. حالا نیما چند تخم مرغ دارد؟



برای هر شکل جمع و تفریق مناسب بنویس.



$\dots\dots + \dots\dots + \dots\dots = \dots\dots$

$\dots\dots - \dots\dots = \dots\dots$

دسته های ده تایی بساز و کامل کن.

|||| |


|||| |

|||| | ||

|||| |

یکی | ده تایی

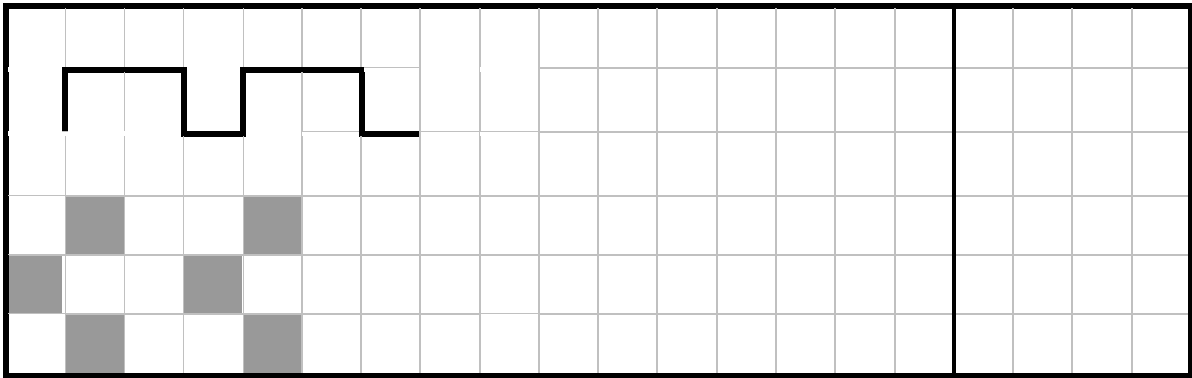
.....



یکی | ده تایی

.....

در هر ردیف آگوها را به همان ترتیب ادامه بده و شکل تکراری را بکش.



ساعت از گذشته است.



ساعت است.

کامل کن.

شاد و پیروز باشید.
آمالی